

**Фонд оценочных средств для промежуточной аттестации обучающихся
по учебному предмету «Технология»
(типовой вариант)
(1-4 классы)**

Обязательная часть учебного плана.

Предметная область: Технология

2 класс

Проверочная работа №1 по теме: «Художественная мастерская».

1. Какой материал используется на уроках технологии.

- А) Бумага, пластилин, природный материал
- Б) Доски, гвозди, кирпичи
- В) Железо, отвертки, секатор

2. Как правильно передавать ножницы.

- А) Лезвиями вперед
- Б) Кольцами вперед
- В) Можно кинуть

3. Без чего нельзя обойтись при работе с пластилином?

- А) Ножницы, клей
- Б) Нитки, иголка
- В) Стека, доска для пластилина

4. Что такое оригами?

- А) Искусство складывания фигурок из бумаги
- Б) Искусство вырезания фигурок из бумаги
- В) Обрывная мозаичная аппликация

5. Что используется при работе с бумагой?

- А) Стека
- Б) Иголки
- В) Ножницы

6. При помощи чего скрепляется бумага?

- а) кнопок
- б) пластилина
- в) клея

7. Обведи объёмные поделки из природного материала красным цветом, аппликацию из листьев – жёлтым, аппликацию из семян – зелёным.



б)



в)



в)

а)


8. Фигуры, какой формы легче всего вырезать?



А)




Б)




В)


9. Возьмите приложение и вырежьте детали пазла. Соберите пазл и приклейте его в рамку.



10. Нарисуйте, аппликацию, используя одну геометрическую фигуру.



Приложение 1.



Критерии оценивания

Максимальное количество баллов: 15 баллов вместе с дополнительной частью

Задания с 1 по 8 оцениваются по 1 баллу за каждый правильный ответ. Итого -8б

Дополнительная часть

9	1. Ученик аккуратно вырезал пазл – 1 балл, вырезал пазл с кривыми краями – 0 баллов 2. Правильно сложил и приклеил детали пазла – 2 балла, сложил пазл не правильно и приклеил – 1 балл	3 балла
---	--	---------

	3. Приклеил пазл, но оставил белые просветы – 1 балл. 4. Все остальные случаи – 0 баллов.	
10	1. Ученик нарисовал аппликацию – 1 балл 2. Рисуя аппликацию, ученик использовал только одну любую геометрическую фигуру – 1 балл, в аппликации две и более геометрических фигуры – 0 баллов 3. Все остальные случаи – 0 баллов.	2 балла

Максимальное количество баллов за 9,10 задания - 5 баллов. Итого-13.

«5» - 13-11 б.

«4» - 10-8 б.

«3» - 8-6 б.

«2» - менее 6 баллов.

Проверочная работа № 2 по теме: «Чертёжная мастерская»

1. Узнай и запиши названия материалов по их свойствам:

а) гладкая, тонкая, мнётся, складывается, не тянется, разноцветная – это _____.

б) плотный, плохо гнётся, не мнётся, не тянется, служит фоном для аппликации – это _____.

в) разноцветный, при нагревании размягчается, пластичный – это _____.

2. Закончи высказывания о материалах и инструментах:

То, из чего изготавливают изделия, - это _____

То, чем работают, - это _____

3. Подумай, о каком инструменте идёт речь? Напиши ответ _____

– Этот инструмент нужно передавать своему товарищу, держа его за лезвие.

– Во время работы с ним нельзя отвлекаться и размахивать им.

– На столе этот инструмент должен лежать с сомкнутыми лезвиями.

4. При изготовлении аппликации из цветной бумаги

а) детали склеиваются;

б) детали сшиваются;

в) детали сколачиваются гвоздями.

5. Закончи предложения, используя слова «нужно» или «нельзя»:

1) Держать инструмент острым концом от себя _____.

2) Отвлекаться во время работы _____.

3) Работать с неисправными ножницами _____.


4) Ходить с инструментами по классу _____.

5) Передавать ножницы кольцами вперёд _____.


6) Следить внимательно за движениями лезвий _____.

6. Процарапывание используется при изготовлении поделки в технике:

1) Примазывание 2) Прорезание 3) Сграфитто



7. Из каких заготовок получатся детали такой формы? Соедини стрелочками.



КРИТЕРИИ ОЦЕНИВАНИЯ

Максимальное количество баллов: 7 баллов

1 балл – за каждый правильный ответ

«5» - 7 б.-6 б

«4» - 5 б.

«3» - 4 б.

«2» - менее 4 баллов.

Проверочная работа № 3 на тему: «Конструкторская мастерская»

1. Что из чего сделано:

- | | |
|-------------|-----------|
| 1) матрешка | 1) ткань |
| 2) кувшин | 2) металл |
| 3) платье | 3) дерево |
| 4) ножницы | 4) глина |

2. Каков порядок выполнения аппликации из листьев?

- приклей;
- нарисуй эскиз;
- составь композицию;
- подбери материалы;
- закрой листом бумаги и положи сверху груз.

3. Как называется складывание частей изображения на листе бумаги?

- эскиз;
- аппликация;
- композиция.

4. Пластилин – это:

- природный материал;
- материал, созданный человеком.

5. Перечисли приспособления при работе с пластилином:

- подкладная доска;
- катушечные нитки;
- стеки;
- тряпочки.

6. Какие свойства бумаги ты знаешь?

- хорошо рвется;
- легко мнется;
- влажная бумага становится прочной.

7. Выбери инструменты при работе с бумагой:

- ножницы;
- игла;
- линейка;
- карандаш.

8. Для чего нужен шаблон?

- а) чтобы получить много одинаковых деталей;
- б) чтобы получить одну деталь.

9. Работать – это значит:

- а) трудиться, выполнять дело, создавать что-либо;
- б) играть;
- в) _____ трудиться _____ и _____ играть;
- г) спать.

10. Вставь пропущенное слово.

Гончар – это мастер, делающий посуду из

. Дopiши

11. Способ создания изображений, когда на бумагу, ткань или другую основу накладывают и приклеивают разноцветные части композиции из ткани, бумаги, цветов, листьев, семян и других материалов – это _____

12. Бумагу делают из _____

13. Продолжи пословицу: "Без труда не вытащишь и _____ из пруда":

КРИТЕРИИ ОЦЕНИВАНИЯ

Максимальное количество баллов: 13 баллов

1 балл – за каждый правильный ответ

«5» - 13-12 б.

«4» - 11-10 б.

«3» - 9-8 б.

«2» - менее 7 баллов.

Итоговая контрольная работа по технологии 2 класс

Выберите правильный ответ.

1. Правила безопасности труда при работе режущими и колющими инструментами:

- а) ножницы подают кольцами вперёд;
- б) ножницы подают острыми концами;
- в) нужно иметь свои ножницы.

2. Правила безопасности труда и личной гигиены, если клей попал в глаза:

- а) быстро протираем глаза сухой салфеткой;
- б) промываем проточной водой;
- в) зажимаем глаза ладонью и держим так некоторое время.

3. Как можно размягчить пластилин?

- а) разогреть на батарее;
- б) разогреть на солнце;
- в) разогреть теплом своих рук.

4. Что можно сделать из соломы?

- а) накрыть крышу;
- б) сделать метлу;
- в) сделать поделку

5. Оригами – это искусство

- а) складывания бумажных фигурок;
- б) фигурок из пластилина;
- в) фигурок из глины

6. Подберите предложение, в котором описывается назначение техники, и соедините его стрелкой с соответствующим названием.

Техника	Назначение
папье-маше	создание объемных изделий из пластичных материалов
лепка	изготовление плоского изделия приёмом наклеивания деталей на основу
аппликация	оклеивание формы кусочками мягкой бумаги

7. Аппликация из цветной бумаги:

- а) детали склеиваются;
- б) детали сшиваются;
- в) детали сколачиваются гвоздями.

8. Швы для вышивания:

- а) «вперёд иголка»;
- б) «назад иголка»;
- г) «иголка в сторону».

9. Что обозначает данная линия? _____

- а) нанести клей
- б) вырезать;
- в) согнуть;

10. Установи правильную последовательность выполнения изделия «Рыбки» в технике оригами (укажи цифрами):

- ___ а) Сложить форму заданной поделки по схеме.
- ___ б) Прочитать условную схему обозначения порядка работы.
- ___ в) Вырезать из бумаги квадрат.

11. Внеси необходимые изменения в порядок изготовления деталей из ткани в технике «аппликация». Определи порядок выполнения операций в нужной последовательности.

- ___ Вырезать деталь
- ___ Вырезать шаблон
- ___ Наложить шаблон на ткань, используя правило экономного расходования ткани
- ___ Обвести шаблон карандашом или мелом.

12. Установите соответствие:

Инструмент	Назначение инструмента
Циркуль	Вязание
Линейка	Шитье
Пяльцы	Построение окружности
Крючок	Измерение длины
Иголка	Вышивание

13. Интерьер – это...

- а) мебель, предметы;
- б) внутренний мир дома, складывающийся из отдельных вещей;
- в) расположение комнат.

14. Архитектура – это ...

- а) здания и сооружения, создающие материально организованную среду, необходимую людям для их жизни и деятельности;
- б) искусство проектировать и строить сооружения;
- в) всё выше перечисленное.

15. Что можно отнести к декоративному убранству?

- а) ковры, светильники, шторы;
- б) необходимые в повседневной жизни вещи;
- в) декоративные элементы, украшающие быт человека;
- г) всё выше перечисленное.

16. Определи, какой материал понадобится каждому мастеру-ремесленнику для изготовления изделия

Гончар	ивовые ветки
Корзинщик	ткань
Портной	глина

17. Для здоровья необходимы:

- а) эстетические качества;
- б) функциональные качества;
- в) гигиенические качества.

3 класс. Проверочная работа № 1 по теме: «Входная» Вариант 1

Ф.И. _____

1. Для изготовления современной посуды не используют:

- А – стекло В – бумагу
- Б – глину Г – металл

2. Гончар – это:

- А – мастер по изготовлению глиняной посуды
- Б – мастер по изготовлению металлической посуды
- В – мастер по изготовлению стеклянной посуды

3. Какие инструменты использует в работе пекарь?

- А – скалка В – сито
- Б – ножницы Г – миксер

4. Какие изделия готовят из теста?

- А – каша В – коржик
- Б – пирог Г – конфета

5. Символом какой страны является матрёшка?

- А – Англия В – Германия
- Б – Россия Г – Швеция

6. Как называется профессия человека, который ухаживает за лошадьми?

- А – конюх В – тракторист
- Б – пахарь Г – доярка

7. Кто такой рыболов?

- А – тот, кто продаёт рыбу
- Б – тот, кто чистит рыбу
- В – тот, кто ловит рыбу

8. Чего не было в старинной русской избе?

- А – печь В – телевизор
- Б – кочерга Г – посуда

9. Какой гриб несъедобный?

- А – подберёзовик В – желчный гриб
- Б – груздь Г – рыжик

10. Какой инструмент не нужен для строительства дома?

- А – рубанок В – пила
- Б – молоток Г – грабли

Проверочная работа № 1 по теме: «Входная» Вариант 2

Ф.И. _____

1. Для изготовления современной посуды не используют:

А – фарфор В – бумагу

Б – глину Г – пластик

2. Плотник – это:

А – мастер по изготовлению деревянных изделий

Б – мастер по изготовлению металлических изделий

В – мастер по изготовлению стеклянной изделий

3. Какие инструменты использует в работе плотник?

А – пилу В – молоток

Б – топор Г – миксер

4. Какие изделия готовят из муки?

А – каша В – коржик

Б – пирог Г – конфета

5. Символом какой страны является самовар?

А – США В – Германия

Б – Россия Г – Япония

6. Как называется профессия человека, который доит коров?

А – конюх В – чабан

Б – доярка Г – кинолог

7. Кто такой печник?

А – тот, кто строит печи

Б – тот, кто печет печенье

В – тот, кто поёт песни

8. Чего не было в старинной русской избе?

А – печь В – компьютер

Б – кочерга Г – посуда

9. Какой гриб несъедобный?

А – подосиновик В – бледная поганка

Б – груздь Г – боровик

10. Какой инструмент не нужен для шитья?

А – игла В – наперсток

Б – ножницы Г – гвоздь

Проверочная работа № 2 по теме: «За 1 полугодие»

Ф.И. _____

1. Подберите к каждому понятию соответствующее ему определение, соединив их стрелкой.

Автомобиль	- изготовление рисунка из наклеенных или нашитых на основу кусков цветной бумаги, ткани
Оригами	- живописное, графическое или скульптурное украшение, основанное на повторении и чередовании геометрических или природных элементов
Орнамент	- приспособление, выполненное из плотной бумаги, тонкой фанеры или другого материала, которое имеет форму необходимой для работы детали или выкройки
Шаблон	- транспортное средство на колёсах с собственным двигателем
Аппликация	- древнее искусство складывания фигурок из бумаги

2. Из чего состоит компьютер? (подчеркни)

а) монитор б) телевизор в) клавиатура г) радио д) системный блок

3. Зачеркните лишнее понятие в каждой группе слов.

Нитки	Ножницы	Гвозди
Игла	Плоскогубцы	Пластилин
Ткань	Бумага	Стека
Молоток	Клей	Картон

4. Выберите правильный ответ (подчеркни).

- Смазывать детали клеем следует, разложив их на: *клеёнке или газете, подкладном листе, изнаночной стороне картона.*

- При работе с булавками следует: *класть булавки на стол, хранить булавки в игольнице, втыкать булавки в одежду.*

Шаблон на материале необходимо размещать: *как можно ближе к краю материал, по центру материала, выходящим за края материала*

5. Определите правильную последовательность технического процесса (проставьте соответствующие цифры).

- ___ сборка
- ___ раскрой
- ___ выполнение эскиза
- ___ сушка
- ___ выбор материала
- ___ отделка
- ___ разметка

6. Запиши правила техники безопасности при работе с ножницами.

7. Перечислите профессии людей, занятых в «Ателье мод».

8. Ткани натурального происхождения изготавливают из...

- а) луговых трав б) шерсти в) из льна г) из хлопка д) из пуха тополя

9. Напишите правила (продолжите)

Для того, чтобы сохранить питьевую воду, надо:

- 1)
- 2)
- 3)

10. Почтой люди отправляют друг другу:,,,,,,,,,

11. Выберите из предложенного списка инструменты.

- а) бумага б) ножницы г) игла д) ткань

Проверочная работа №3 по теме: «Мастерская инженера, конструктора, декоратора»

Ф.И. _____

1. Образец, по которому изготавливают изделия, одинаковые по форме и размеру:

- а) шаблон
- б) разметка
- в) эскиз

2. Шаблон на материале необходимо размещать:

- а) по центру материала;
- б) как можно ближе к краю материала;
- в) так, как захочется, это значения не имеет.

3. Какие утверждения верны:

- а) чтобы подготовить листья к работе высуши их на подоконник;
- б) передавай ножницы кольцами вперед;
- в) работай с пластилином на подкладной доске; г) после работы пересчитай иголки в игольнице;
- д) при выполнении аппликации вырежай детали по одной и сразу их наклеивай.

4. Развёрнутая на плоскости поверхность детали или целого тела сложной формы:

- а) развертка;
- б) разметка;
- в) композиция.

5. Закончи фразу «Мозаика — это...»

- а) изображение, составленное из кусочков бумаги или других материалов;
- б) вид аппликации;
- в) игра.

6. Выбери инструменты при работе с бумагой:

- а) ножницы; в) линейка;
- б) игла; г) карандаш.

7. Что нельзя делать при работе с ножницами?

- а) держать ножницы острыми концами вниз;
- б) оставлять их на столе с раскрытыми лезвиями;
- в) передавать их закрытыми кольцами вперед;
- г) пальцы левой руки держать близко к лезвию;
- д) хранить ножницы после работы в футляре.

8. Как называется складывание частей изображения на листе бумаги?

- а) эскиз;
- б) композиция;
- в) аппликация.

9. На какую сторону бумаги наносят клей?

- а) лицевую;
- б) изнаночную.

10. В каком порядке выполняют аппликацию?

- _____ вырежи;
- _____ разметь детали;
- _____ приклей.

11. Выбери инструменты для работы с пластилином:

- а) стеки;
- б) подкладная доска;
- в) катушечные нитки.

12. Выбери правила безопасной работы с иглой и булавками:

- а) храни в игольнице;
- б) вкалывай в одежду;
- в) не бери в рот;
- г) не подноси близко к глазам.

13. Выбери, кто работает с тканью:

- а) швея;
- б) архитектор;
- г) повар.

14. Продолжи пословицу: "Не боги горшки обжигают, а ... "

- а) ... мастера;
- б) ... печи;
- в) ... солнце.

Проверочная работа № 4 по теме: «За 2 полугодие»

Ф.И. _____

1. Какие из перечисленных инструментов опасные?

- А. линейка
- Б. ножницы
- В. игла
- Г. стека

2. Для производства пряжи используют шерсть?

- А. овец и баранов
- Б. медведя и рыси
- В. ламы и альпаки

3. Ткани растительного происхождения изготавливают из...

- А. луговых трав
- Б. хвои лиственницы и ели
- В. из льна и хлопка
- Г. из пуха тополя

4. Какой инструмент лишний?

- А. линейка
- Б. карандаш
- В. кисточка
- Г. циркуль

5. Что такое САШИКО?

- А. базовая форма оригами
- Б. вид японской вышивки
- В. материал для творчества

6. Какое утверждение неправильное?

- А. волокна хлопка используются для изготовления тканей.

- Б. мех медведя и россомахи используется для изготовления тканей.
- В. коконы тутового шелкопряда используются для изготовления тканей.

7. Какие утверждения верны?

- А. после работы пересчитай иголки в игольнице
- Б. чтобы подготовить листья к работе высуши их на подоконнике
- В. при выполнении аппликации вырезай детали по одной и сразу их наклеивай.
- Г. передавай ножницы кольцами вперед
- Д. работай с пластилином на подкладной доске.

8. Какие материалы и инструменты понадобятся для вышивания?

- А. пяльцы
- Б. ткань
- В. мулине
- Г. иголка
- Д. швейные булавки
- Е. стека

9. Закончи фразу «Мозаика - это...»

- А. изображение, составленное из кусочков бумаги или других материалов
- Б. вид аппликации
- В. игра

10. Оригами – это...

- А. древний способ изготовления бумаги
- Б. искусство складывания бумаги
- В. город в Японии

11. Ткань, нитки и пряжа состоят из...

- А. волокон
- Б. ниток
- В. ворсинок

12. Выбери названия базовых форм в оригами?

- А. квадрат
- Б. дом
- В. блинчик
- Г. крылья

Критерии оценивания

10 заданий

Оценки:

- «5» – 9,10 заданий.
- «4» – 7,8 заданий.
- «3» – 5,6 заданий.
- «2» – 3,4 задания.

12 заданий

Оценки:

- «5» – 9-12 заданий.
- «4» – 5-8 заданий.
- «3» – 2-4 задания.
- «2» – 1-2 задания.

14 заданий

- «5» – 12-14 заданий.
- «4» – 9-11 заданий.
- «3» - 6-8 заданий.
- «2» – 1-5 заданий.

11 заданий

Оценки:

«5» – 10-11 заданий.

«4» – 8-9 заданий.

«3» – 6-7 задания.

«2» – 1-5 задания.

4 класс

Входной контроль остаточных знаний

1. Закончите фразу: инструменты – это...
 - а) предметы, вещества, идущие на изготовление чего-либо
 - б) орудия для производства каких-нибудь работ
2. Выберите и подчеркните из предложенного списка инструменты.
Канцелярский нож, клей, ножницы, игла, ткань, нитки, линейка, бумага
3. Этот материал представляет собой искусственную невысыхающую массу, которую многократно используют в поделках. Состав его может быть разнообразным, но, как правило, в него входит воск и глина. Назовите этот материал.

4. Какое утверждение верно?
 - а) Материалы – это линейка, клей, треугольник.
 - б) Материалы – это бумага, нитки, пластилин.
5. Перед вами правило безопасной работы с одним из часто используемых в работе инструментов:
Этот инструмент нужно передавать своему товарищу, держа его за лезвие; во время работы с ним нельзя отвлекаться и размахивать им; на столе этот инструмент должен лежать с сомкнутыми лезвиями.
Назовите этот инструмент: _____
6. Из чего состоит компьютер? Выберите и подчеркните:
Монитор, розетка, клавиатура, наушники, системный блок, мышь, планшет

Тестовая работа за I полугодие

1. Выберите и подчеркните строительные профессии:
Штукатур, библиотекарь, крановщик, маляр, водитель, монтажник, электрик, кондитер.
2. Перед вами правила безопасной работы с одним из часто используемых в работе инструментов:
Этот инструмент нельзя оставлять на столе, втыкать в одежду, во время работы с ним нельзя отвлекаться, хранить его нужно вместе с нитью. Назовите этот инструмент:

3. Из каких частей состоит компьютер?

4. Расставьте по порядку ваши действия по изготовлению чего-либо:

- _____ Составление чертежа
- _____ Соединение деталей, сборка
- _____ Идея, проект
- _____ Оформление, декор готового изделия
- _____ Изготовление деталей

5. Какое утверждение верно?

- а) Инструменты – это линейка, клей, треугольник.
- б) Инструменты – это игла, ножницы, треугольник.

Тестовая работа за 2 полугодие

1. Соедините линиями материал и изделие из него:

- | | |
|--------|---------|
| Шерсть | Сметана |
| Какао | Свитер |
| Нефть | Шоколад |
| Молоко | Бензин |

2. Приведи примеры положительного и отрицательного влияния человека на окружающую среду:

Положительное: _____

Отрицательное: _____

3. Составьте и запишите 2-3 рекомендации по улучшению экологической ситуации в нашем городе.

4. Выберите и подчеркните основные требования дизайна к изделиям:

Выгода, удобство, польза, дешевизна, изящество, красота.

5. Какие технические изобретения вошли в нашу жизнь в конце 19-начале 20 века?

6. Соедини линиями части персонального компьютера с их назначением:

- | | |
|----------------|--------------|
| Монитор | Управление |
| Клавиатура | Мозг |
| Мышь | Экран |
| Системный блок | Набор текста |

7. Приведите примеры:

Материалы: _____

Инструменты: _____

Итоговый тест по технологии в 4 классах.

1. Закончите фразу: инструменты – это...

а) те предметы, вещества, идущие на изготовление чего-либо.

б) орудия для производства каких-нибудь работ.

2. Выберите и подчеркните из предложенного списка инструменты.

Канцелярский нож, клей, ножницы, игла, ткань, нитки, линейка, бумага.

3. Этот материал представляет собой искусственную невысыхающую массу, которую многократно используют в поделках. Состав его может быть разнообразным, но, как правило, в него входит воск и глина. Назовите этот материал. _____

4.. Какое утверждение верно?

а) Материалы – это линейка, клей, треугольник.

б) Материалы – это бумага, нитки, пластилин.

а) Инструменты – это линейка, клей, треугольник.

б) Инструменты – это игла, ножницы, треугольник.

5. Перед вами правила безопасной работы с одним из часто используемых в работе инструментов:

– Этот инструмент нужно передавать своему товарищу, держа его за лезвие; во время работы с ним нельзя отвлекаться и размахивать им; на столе этот инструмент должен лежать с сомкнутыми лезвиями.

Назовите этот инструмент: _____

6. Из каких частей состоит компьютер?

7. Расставьте по порядку ваши действия по изготовлению чего-либо:

_____ Составление чертежа

_____ Соединение деталей, сборка

_____ Идея, проект

_____ Оформление, декор готового изделия

_____ Изготовление деталей

8. Соедините линиями материал и изделие из него:

Шерсть

Сметана

Какао

Свитер

Нефть

Шоколад

Молоко

Бензин

9. Интерьер – это...

а) мебель, предметы;

б) внутренний мир дома, складывающийся из отдельных вещей;

в) расположение комнат.

10. Архитектура – это ...

а) здания и сооружения, создающие материально организованную среду, необходимую людям для их жизни и деятельности;

б) искусство проектировать и строить сооружения;

в) всё выше перечисленное.

11. Что можно отнести к декоративному убранству?

а) ковры, светильники, шторы;

б) необходимые в повседневной жизни вещи;

в) декоративные элементы, украшающие быт человека;

г) всё выше перечисленное.

12. Оригами – это ...

а) блюдо японской кухни;

б) техника складывания из бумаги;

в) японский национальный костюм.

Критерии оценивания

«5» - получают учащиеся, справившиеся с работой в объеме 80-100 %;

«4» - получают учащиеся, справившиеся с работой в объеме 60-80%;

«3» - получают учащиеся, справившиеся с работой в объеме 40-50 % ;

«2» - получают учащиеся, справившиеся с работой в объеме менее 40%